

MUSÉE DES BEAUX-ARTS DE CHARTRES

AIDE À LA VISITE LIVRET JUNIOR

Bienvenue au musée des Beaux-Arts.
Ancienne demeure des évêques,
ce palais conserve et présente
des collections depuis 1938.

P02 / **ACCUEIL-VESTIBULE**



P03 / **LA SALLE À L'ITALIENNE**



P04-05 / **LA CHAPELLE**



P06 / **ACCUEIL-VESTIBULE**



P07-08 / **À L'EXTÉRIEUR**



AIDE À LA VISITE

LIVRET JUNIOR

Pour répondre aux questions, il te faudra soit cocher la bonne réponse, soit l'écrire. Bonne visite !

ACCUEIL-VESTIBULE



L'entrée du musée, appelée aussi vestibule, est un lieu rempli d'histoire.

1. En observant le grand tableau de la **salle 4**, retrouve et décris l'événement qui s'est déroulé là où se trouve aujourd'hui l'accueil du musée.

INDICE : regarde le titre du tableau.

2. Quels indices permettent de resituer la scène du tableau d'Etienne-Barthélémy Garnier dans l'entrée du musée ?

AIDE À LA VISITE

LIVRET JUNIOR



1. La salle qui suit le vestibule s'appelle « la salle à l'italienne », mais pourquoi ?

LA SALLE À L'ITALIENNE



Trouve un ou plusieurs éléments dans l'architecture de cette pièce qui te rappellent l'Italie :

2. Il existe dans cet espace une marque de tâcheron répétée plusieurs fois. Un tâcheron était un artisan qui taillait les pierres. Pour signer son travail, il gravait une marque, cela lui permettait ainsi d'être payé en fonction du nombre de pierres qu'il avait taillées. **Pars à leur recherche.**

INDICE : regarde plutôt en bas des murs, c'est une forme géométrique : ☐ ☐ ☐ ☐ ☐ ☐ ☐ ☐

3. Tu peux toi aussi créer ta marque, dessine-la dans le cadre ci-dessous :

AIDE À LA VISITE

LIVRET JUNIOR



LE SAIS-TU ? :

La chapelle a été construite sous l'épiscopat de Monseigneur de Fleury (1746-1780).

LA CHAPELLE




On doit la conception de cette chapelle, entre 1767 et 1775, à l'architecte Pierre-Noël Rousset. L'ensemble sculpté au-dessus de l'autel a été réalisé par le sculpteur Charles Antoine Bridan.

1. Observe l'architecture de la chapelle.
Quel type de motif ressort le plus dans le décor ?

A large empty rectangular box with a blue border, intended for the user to write their answer to question 1.

2. Dans quel type de lieu peut-on généralement retrouver des colonnes ?

A large empty rectangular box with a blue border, intended for the user to write their answer to question 2.

AIDE À LA VISITE

LIVRET JUNIOR


LE SAIS-TU ? :

L'architecture baroque avait des caractéristiques bien spécifiques : elle a repris le style de l'architecture romaine, et elle pouvait servir à montrer la puissance et la richesse de l'Église catholique. Cette chapelle en est l'exemple, elle soutenait la puissance de la famille de Fleury.

LA CHAPELLE



3. D'ailleurs, des emblèmes de la famille de Fleury sont dissimulés dans les salles du musée. Parmi eux, on trouve la rose. Repère cet emblème dans la chapelle et dessine-le :




AIDE À LA VISITE

LIVRET JUNIOR

1. Pour trouver les autres emblèmes, retourne dans le vestibule et lève la tête.
Sur ce dessin du blason de la famille de Fleury, entoure les emblèmes que tu as vus :

ACCUEIL-VESTIBULE



AIDE À LA VISITE

LIVRET JUNIOR

1. Le jardin devant le musée présente une jolie composition florale.
Donne 3 couleurs de fleurs autour de toi.



À L'EXTÉRIEUR



2. Observe la façade du musée. Combien y a-t-il de fenêtres ?



AIDE À LA VISITE


LIVRET JUNIOR

LE SAIS-TU ? :

La façade présente deux creux à l'extrême gauche, mais pourquoi ? On pourrait penser qu'il s'agissait de fenêtres, mais en réalité ces creux sont volontaires, ils ont été formés lors de la construction de la chapelle, qui fut rajoutée au palais déjà construit. Ces creux devaient créer de la symétrie sur la façade du bâtiment.

3. Observe le portail en fer forgé qui se trouve à l'entrée. Quel élément indiquait la fonction du bâtiment à l'époque ?


INDICE : regarde vers le haut du portail.



À L'EXTÉRIEUR



4. Au XVIII^{ème} siècle, une partie de l'architecture reliait le musée à la cathédrale. Cherche les restes de cet élément architectural en regardant vers l'un des côtés du musée, et dessine ce que tu as trouvé :



AIDE À LA VISITE

LIVRET JUNIOR

RÉPONSES :



ACCUEIL-VESTIBULE

1. Les retrouvailles du duc et de la duchesse d'Angoulême en 1823 ont eu lieu à cet endroit.
2. Points communs : le sol en damier noir et blanc, l'escalier avec sa rambarde en fer forgé, la salle à l'italienne et la chapelle aperçues dans le fond.



LA SALLE À L'ITALIENNE

1. Les balcons et le décor sobre de style Renaissance de la salle lui ont valu son nom.
2. La marque du tâcheron est un triangle gravé sur les pierres de la salle.



LA CHAPELLE

1. Le motif floral, végétal ressort le plus dans ce décor.
2. On retrouve des colonnes dans les temples grecs et romains dans l'Antiquité. Ce type d'architecture a inspiré l'architecture baroque présente dans la chapelle.



ACCUEIL-VESTIBULE



À L'EXTÉRIEUR

1. Suivant les saisons, les couleurs des fleurs changent.
2. Nombre de fenêtres sur la façade : 24
3. La croix au sommet du portail indiquait la fonction épiscopale du palais.
4. Dans le jardin, vers la gauche en sortant du musée, on remarque les vestiges d'une arcade qui reliait le palais épiscopal à la cathédrale ; cela permettait à l'évêque de se rendre dans la cathédrale par l'arrière tout en étant abrité.

